


ministère
éducation
nationale



Éducation au développement durable

*Le tour du monde de Thalassa
émission 10, 30 nov.07*

- Fiche pédagogique lycée - Sihanoukville

Ce document peut être utilisé librement dans le cadre des activités de l'enseignement scolaire, de la formation des professeurs et de l'organisation des examens.

Toute reproduction, même partielle, à d'autres fins ou dans une nouvelle publication, est soumise à l'autorisation du directeur général de l'Enseignement scolaire.

Novembre 2007



SUIVRE LE TOUR DU MONDE D'UN PORTE-CONTENEURS



FICHE PROFESSEUR

Niveau lycée

30 novembre 2007

« Sihanoukville »

1- Synopsis de l'extrait sélectionné (4 min.)

L'extrait présente :

- plusieurs vues générales des plages de Sihanoukville, ouvertes sur le golfe de Thaïlande, fréquentées par promeneurs et baigneurs qui font de ce rivage l'une des nouvelles destinations de tourisme balnéaire en Asie.
- Le témoignage d'une ancienne commerçante décrivant la récente opération de démolition des boutiques de plage qui bordaient le bord de mer à Sihanoukville. Les bulldozers ont laissé la place au chantier de construction d'un complexe hôtelier.
- Sur quelques plans du chantier en cours, le commentaire du reportage rappelle que la Banque mondiale a publié un rapport sur la corruption au Cambodge.
- Le promoteur du projet hôtelier décrit le futur complexe (qualifié de « pharaonique » par le commentaire) qui s'étalera sur 5 hectares en bord de mer. Il justifie par ailleurs l'expulsion de plusieurs familles et commerçants, affirmant que tout développement économique provoque des mécontentements et le sacrifice de certains intérêts particuliers.
- Les populations locales expulsées expriment leur ressentiment de voir encore une fois « *les plus riches s'enrichir au détriment des plus pauvres* ». Des actions publiques et judiciaires sont évoquées (manifestations, plaintes en justice etc.).

2- Utilisation possible dans le cadre des programmes du lycée général et technologique

Classe de seconde générale

Partie au choix : *Les littoraux, espaces attractifs. Les espaces littoraux et les formes d'aménagement.*

Une utilisation est possible en classe de seconde. Dans ce cas, il suffit de se reporter aux fiches « professeur » et « élèves collègue » conçues pour les deux niveaux.

Classe de terminale L, ES, S :

Géographie : Partie 1 « *Un espace mondialisé* », Chapitre 1 « *Mondialisation et interdépendances* »

Partie correspondant aux flux humains : les flux touristiques

ECJS : *La citoyenneté et les formes de la mondialisation*

Cette séquence propose de mêler géographie et ECJS en deux parties.

Problématique géographique possible

Tourisme international et niveau de développement : des flux et des aménagements montrant la domination des pays du Nord

La ville de Sihanoukville permet d'illustrer de façon concrète le gradient de développement qu'intègre aujourd'hui le tourisme international entre pays développés émetteurs de touristes internationaux et pays d'accueil en développement, comme le Cambodge. Ceci permet de montrer la relation Nord/Sud en termes de flux.

Activités proposées en géographie

À partir de cartes à plusieurs échelles, les élèves sont d'abord invités à localiser rapidement Sihanoukville (Asie du Sud-Est, province de Kampot).

Puis, sur un planisphère thématique de l' « indice de développement humain » (IDH), les élèves sont conduits à classer le Cambodge en termes de niveau de développement.

Est ensuite proposée l'identification des grands flux internationaux de touristes dans le monde (origines et destinations) à partir d'un second planisphère.

La comparaison des deux planisphères permet d'observer que certains flux touristiques originaires de pays développés se dirigent vers ceux en développement. Une réflexion sur cette corrélation est amenée sous la forme d'un cours dialogué.

À partir des informations recueillies dans la séquence du reportage, un schéma peut être complété, faisant apparaître d'une part les « atouts » du Cambodge en matière de tourisme international tout en mettant en évidence sa proximité avec le pôle de l'Asie Orientale.

Problématique civique possible

(Dans le cadre du thème *La citoyenneté et les formes de la mondialisation*)

Un travail de sélection et de croisement d'informations données dans le reportage et dans des documents annexes permet de présenter des arguments au cours d'un débat sur les conflits d'intérêts engendrés par le développement des aménagements touristiques.

Activités proposées en Éducation civique

Après un rapide travail de localisation, les élèves sont amenés à relever dans la séquence du reportage les arguments utiles à la compréhension des enjeux. D'un côté, il s'agit de relever les éléments permettant de définir les "normes" du tourisme occidental envisagé dans les projets touristiques de Sihanoukville comme base de développement. D'un autre côté, il s'agit de saisir les conséquences sur les habitants de la plage et de la ville. Enfin, il s'agit également de déterminer qui sont les acteurs impliqués dans cette forme de développement local :

- un promoteur immobilier cambodgien qui dirige le chantier de construction d'un hôtel ;
- un investisseur étranger souhaitant faire construire un hôtel de luxe ;

- un habitant du bord de mer inquiet ;
- un responsable municipal de Sihanoukville.

Des informations complémentaires apportées par quelques documents annexes peuvent venir étoffer les discussions. Un travail de synthèse écrite est proposé à titre de conclusion.

2- Informations complémentaires

- Les plages de Sihanoukville et de la côte cambodgienne sont de plus en plus fréquentées par les populations locales ou nationales et les touristes étrangers. Ce phénomène va de pair avec le renouveau et le dynamisme des projets de développement économique dans la région.
- De 1975 à 1979, le Cambodge a connu une période de dictature totalitaire sous le régime des « Khmers Rouges » (officiellement « Parti du Kampuchéa démocratique ») dirigés par Pol Pot. Ce régime marxiste, interdisant plaisirs et propriété privée, prônant le retour à la terre et le travail collectif a causé la mort d'1,5 millions de Cambodgiens (1/4 de la population). Les procès des anciens lieutenants de Pol Pot sont toujours en cours. Ceci peut permettre d'évoquer brièvement cet aspect dans le cadre de relations internationales (relation avec la Chine et avec l'URSS), dans le programme d'histoire de Terminale.
- Une loi cambodgienne fait de toute personne vivant sur un terrain depuis plus de 5 ans son légitime propriétaire.
- Le représentant de la Ligue des Droits de l'Homme à Sihanoukville est toujours « inquiet » quand on lui parle de développement touristique, qui engendrent souvent des conflits entre acteurs.
- Les investisseurs étrangers sont nombreux au Cambodge et à Sihanoukville. Européens, Japonais, Russes profitent, en plus des faibles coûts de construction, de la rapidité avec laquelle l'administration cambodgienne accorde des autorisations.

4- Éléments de contexte et ressources

A propos de la compagnie maritime CMA-CGM

<http://www.cma-cgm.com>

Voir aussi la fiche de présentation.

Le site de la ville de Sihanoukville

<http://www.sihanoukville.net>

Présentation du site (plages, îles etc.) et des hôtels de luxe, carte de la ville.

Organisation mondiale du tourisme

http://www.unwto.org/index_f.php

ANNEXES

Annexe 1 - Article « Sihanoukville » dans Wikipedia

Sihanoukville (Khmer : Preah Sihanuk), anciennement *Kompong Som*, est le seul port maritime en eau profonde du Cambodge, au sud du pays. La ville est reliée à Phnom Penh par une voie ferrée (230 km) en mauvais état. De plus en plus, la majorité du transport de marchandises se fait par camions sur la très bonne route nationale 4 qui relie Phnom Penh et **Sihanoukville** en 4-5 h de temps.

Au recensement de 1998, Sihanoukville comptait 155 690 habitants. Elle a été rebaptisée en l'honneur de Norodom Sihanouk, ancien roi du Cambodge.

Petite ville provinciale, elle est vouée à un développement touristique important. Ses grandes plages de sable blanc font le bonheur des familles khmères alors que les touristes occidentaux partent pour la plongée autour de ses îles luxuriantes.



Plage de Serendipity à Sihanoukville

Annexe 2 - Cambodge, situation économique et financière
(d'après la mission économique du ministère de l'Économie et des Finances)

*** Une croissance très vigoureuse sans déséquilibres majeurs des fondamentaux**

La croissance au Cambodge a atteint 10,4 % en 2006 selon le ministère de l'économie et des finances, le FMI et la BAsD. La Banque mondiale n'est pas en reste et estime même la croissance 2006 à 10,5 %.

En dépit de l'étroitesse du socle de croissance (le bâtiment, le tourisme et l'habillement représentent 45% du PIB ; la confection environ 90% des ventes à l'étranger) ses principaux moteurs s'avèrent plus solides et durables que ne le pensaient les experts.

*** Tourisme toujours en hausse**

Le tourisme (+ 23% en 2006) bénéficie de l'image d'Angkor et surtout de l'envol, certes à moindre valeur ajoutée locale, du tourisme asiatique, notamment coréen, chinois et désormais vietnamien : plus de 60% des visiteurs. Et le pôle littoral de Sihanoukville se construit grâce à l'ouverture de l'aéroport confié à SCA-Vinci.

*** Boom dans la construction**

Le boom de la construction, surtout dans les grandes villes, pourrait se tasser (+15,7% en 2006) mais ne semble pas devoir cesser : le foncier reste très avantageux dans les villes et sur le littoral au regard des zones proches d'Asie ; une partie notable de l'épargne cachée que produit l'économie informelle n'a pour l'instant pas de meilleure issue que de s'y investir.

*** La pauvreté se réduit, mais les écarts se creusent**

Le taux de pauvreté (seuil national établi à 0,45\$/jour correspondant à 1\$ PPA 1990) a bien diminué d'une bonne douzaine de points de 1994 à 2004 et peut être désormais estimé entre 31 et 32%. Si plusieurs indicateurs liés aux OMD évoluent favorablement la réalisation dans les délais de plusieurs autres, dans les domaines de l'éducation, de la santé maternelle ou de l'accès à l'eau en zone rurale, paraît compromise. En outre les inégalités sociales et territoriales, de revenus et de patrimoine, s'accroissent fortement et plus vite qu'à l'occasion des autres phénomènes de transition observés en Asie. La moitié de la population a moins de 25 ans, mais elle reste trop peu et trop mal formée, particulièrement dans les métiers techniques intermédiaires. Et durant la décennie à venir le marché du travail verra arriver plus de 200 000 entrants par an.

Annexe 3 – Les pôles et flux touristiques sont très concentrés géographiquement

* Les pays à niveau de vie élevé, soit les États de la Triade représentent plus de 70 % des flux émetteurs et récepteurs du tourisme mondial : on notera l'importance des flux intra-européens et les flux transatlantiques de l'hémisphère nord.

L'Europe est le premier pôle ou foyer récepteur en arrivées de touristes internationaux (58 %) et en recettes (55 %) ; la partie méditerranéenne de l'Europe compte pour le cinquième.

L'Amérique du Nord avec 11 % des arrivées et 16 % des recettes constitue le second foyer régional des pays développés

Si l'on raisonne à l'échelle des états, pour les recettes comme pour les arrivées de touristes, trois pays se sont installés durablement au sommet de la hiérarchie des 10 premiers du monde, lesquels concentrent 50 % des flux touristiques internationaux.

* les pays du "Sud" sont surtout des récepteurs de flux touristiques ; ils voient s'accroître rapidement leurs arrivées, surtout pour le tourisme intra-régional.

Alors qu'ils ne représentaient que 1/6 des arrivées en 1970, puis 1/4 en 1990, actuellement ils approchent les 30%. C'est surtout l'Asie comme le montre la forte reprise en 2004 et particulièrement la Chine qui constitue le premier foyer récepteur du Sud. Vient ensuite l'Amérique latine avec les Caraïbes et le Mexique au 8è rang mondial. L'Afrique et le Moyen-Orient dont l'Egypte font jeu égal autour de 4 %.

Les pays en voie de développement ne bénéficient que très partiellement des recettes mondiales : ainsi l'Afrique ne perçoit que 2.5 % des recettes mondiales.

<http://www.ac-rennes.fr>

Annexe 4 - La corruption au Cambodge, selon la Banque mondiale

WASHINGTON, le 6 février 2007— La Banque mondiale continue de jouer un rôle de premier plan dans la lutte contre les pratiques de fraude et de corruption. [...]

« Plus d'un milliard de personnes à travers le monde vivent avec un dollar par jour, et la corruption menace leur espoir d'une vie de meilleure qualité et d'un avenir plus prometteur, » déclare le Président de la Banque mondiale, M. Paul Wolfowitz. « Quand nous découvrons que l'aide au développement déjà insuffisante, est détournée de l'objectif visé, celui de profiter aux pauvres, nous avons le devoir d'agir. »

« La corruption a une incidence catastrophique sur la capacité des administrations à fonctionner normalement ; sur celle du secteur privé à se développer et à créer des emplois ; sur les talents et les énergies des populations à ajouter de la valeur de manière productive ; et, en fin de compte, sur l'aptitude des sociétés à se sortir de la pauvreté, » estime Suzanne Rich Folsom, Directrice du Service de déontologie institutionnelle. [...]

Le rapport note que la Banque a effectué au Cambodge au cours de l'exercice 2005 un examen approfondi de l'exécution qui a révélé un certain nombre de cas d'irrégularités, notamment l'absence d'appel à la concurrence et une gestion financière douteuse.[...]

<http://web.worldbank.org>



SUIVRE LE TOUR DU MONDE D'UN PORTE-CONTENEURS



FICHE ÉLÈVE

Niveau lycée

30 novembre 2007

« Sihanoukville »

FIL DIRECTEUR :

Géographie : Les projets touristiques et hôteliers en cours à Sihanoukville permettent d'illustrer la répartition mondiale des flux touristiques internationaux et l'émergence d'une zone réceptrice en Asie du Sud-Est.

ECJS : Un tourisme calibré pour des populations étrangères aisées, qui entre en conflit avec les intérêts de certaines populations locales.

1- Partie 1 – Questionnement géographique

Étudier une carte (Carte 1) et reportage

a) Localiser la ville de Sihanoukville

- Où se situe le Cambodge par rapport aux grands pôles de la mondialisation ?
- Quel type de tourisme est extrêmement pratiqué dans cette région du monde ?
- Pourquoi peut-on dire que Sihanoukville est un des pôles mis en valeur par l'État cambodgien ?
- Quelle infrastructure de transport permet-elle de connecter directement Sihanoukville au reste du monde ?

b) Corréler le niveau de développement et certains flux internationaux de touristes

Étudier un planisphère (Carte 2)

- Quel est le niveau de développement du Cambodge ?
- À quel groupe de pays appartient donc le Cambodge ?
- Montrez, à l'aide du reportage, des éléments permettant de confirmer ce niveau de développement.

Étudier un planisphère (Carte 3)

- D'après la légende, à quel type de zone réceptrice de touristes appartient le Cambodge ?

- De quelle(s) zone(s) émettrice(s) arrive(nt) les touristes internationaux au Cambodge ?
- D'après la carte 2, quel est le niveau de développement des pays émetteurs de touristes vers le Cambodge ?

Relier les deux planisphères en utilisant les commentaires audio et les images du projet hôtelier du reportage

- En utilisant les réponses précédentes, quels sont les atouts du Cambodge pour des touristes étrangers ?
- Pourquoi peut-on dire que le tourisme est calibré pour les pays développés ?
- Que peut-on en conclure sur les effets de la mondialisation touristique ?

2- Partie 2- Questionnement civique

Un développement touristique, facteur de conflits d'intérêts à Sihanoukville

Compléter un tableau de données en relevant des informations :

- Déterminer les « acteurs » en jeu pour ces projets de développement touristique à Sihanoukville
- Remplir le tableau suivant à l'aide du reportage et des documents annexes (fiche professeur)

	Un tourisme centré sur le haut de gamme comme base de développement	Des populations qui pâtissent de ce développement

- Les objectifs, les moyens et les contraintes des 4 acteurs sont-ils concordants ?
- Comment considérer le rôle de l'État cambodgien par rapport à sa population ?
- Les effets de développement induits par cette forme de mondialisation sont-ils les mêmes pour toutes les catégories de population concernées ?

DOCUMENTS

- * Carte 1 - Localisation et accessibilité de Sihanoukville au Cambodge
- * Carte 2 – L'Indice de Développement Humain dans le monde (2004)
- * Carte 3 – Les flux touristiques dans le monde en 2002
- * Documents annexes fiche professeur

Carte 1 – Localisation et accessibilité de Sihanoukville

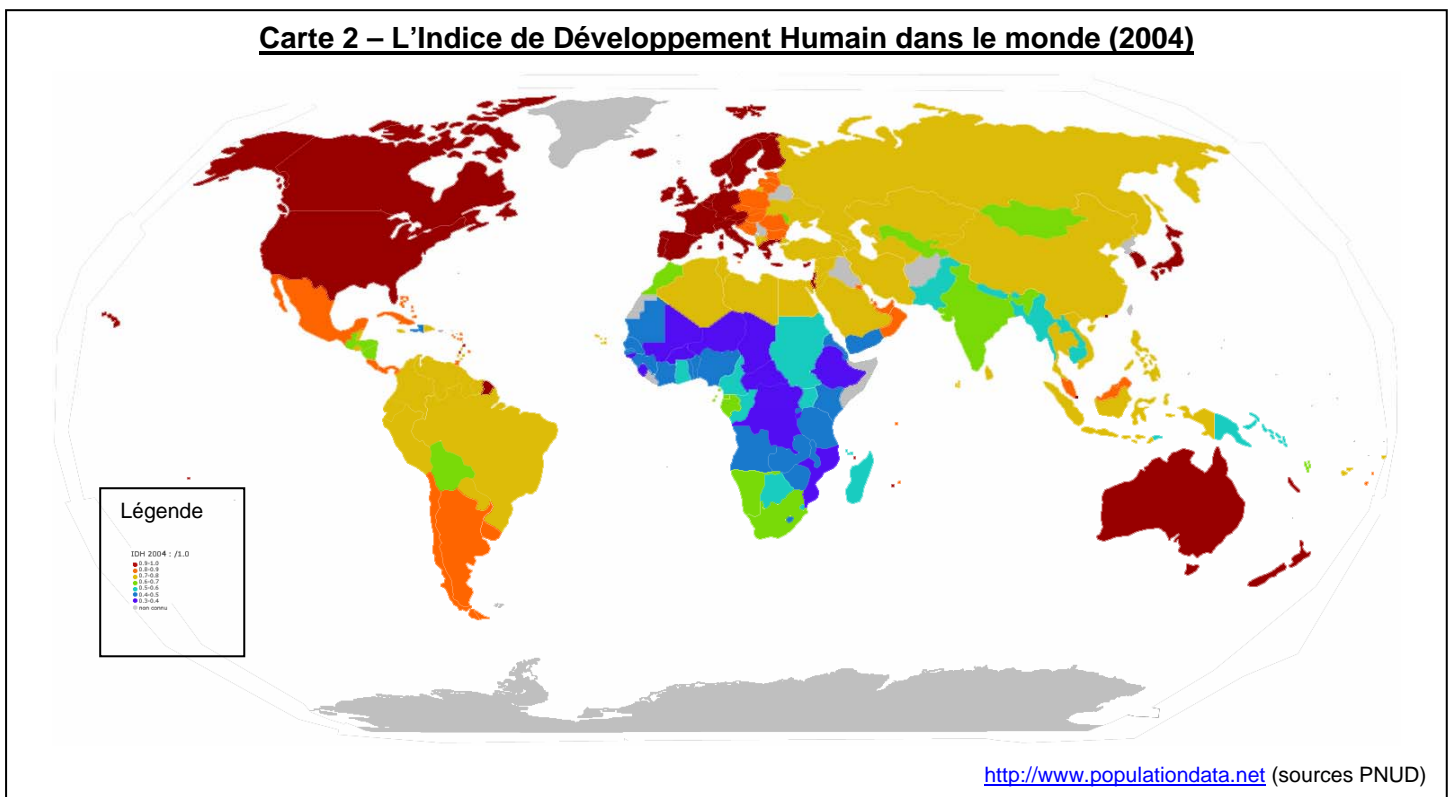


<http://www.diplomatie.gouv.fr/fr>

* Le **réseau ferroviaire** est en très mauvais état et les voyages en train sont longs et inconfortables. Seules deux liaisons : Phnom-Penh/Port de Sihanoukville et Phnom-Penh/Sisophon (vers la Thaïlande) fonctionnent.

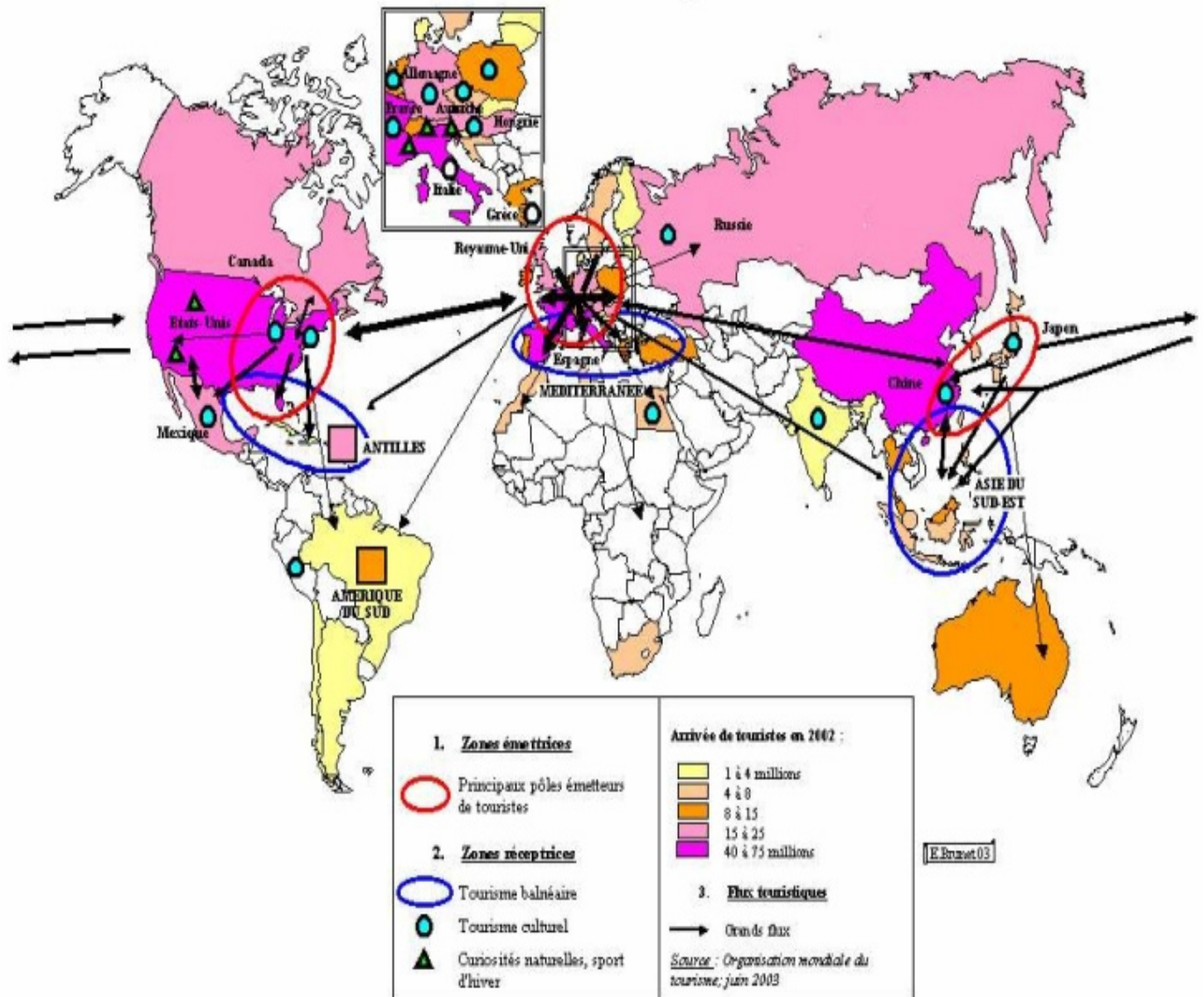
* Il existe un **aéroport international** à Sihanoukville.

Carte 2 – L'Indice de Développement Humain dans le monde (2004)



Carte 3 – Les flux touristiques dans le monde en 2002

Les flux touristiques en 2002



<http://www.pedagogie.ac-nantes.fr>