

**Exercice 1****Compétence :**

Lire des nombres entiers jusqu'à 10.

**Activité :**

Associer les noms des nombres à leur écriture chiffrée.

**Consignes de passation :**

[Demander aux élèves d'ouvrir leur cahier de mathématiques à la page 1, vérifier.]

« Dans cet exercice, vous allez entourer les nombres que je vais vous dire.  
Vous entourerez seulement un nombre par ligne. Nous allons faire un exemple ensemble.

[Ecrire ou projeter l'exemple au tableau.]

	<b>2</b>	<b>10</b>	<b>7</b>	<b>1</b>	<b>9</b>	<b>6</b>
---	----------	-----------	----------	----------	----------	----------

Regardez la ligne qui commence par le rond noir. Entourez le nombre 1. Allez-y.

[Laisser les élèves chercher la réponse pendant 5 secondes.  
Corriger sur l'exemple projeté ou au tableau.]

Le nombre est ici. [Montrer le nombre 1.]

Il fallait donc l'entourer. [Entourer le nombre 1.]









Maintenant que vous avez compris, nous allons commencer.

Regardez la ligne qui commence par le rond blanc. Entourez le nombre 3.

[Laisser 5 secondes. Répéter. Laisser 5 secondes.]

Regardez maintenant la ligne qui commence par la flèche noire. Entourez le nombre 5. »

[Laisser 5 secondes. Répéter. Laisser 5 secondes. Procéder ainsi pour les nombres suivants.]

	<b>8</b>
	<b>2</b>
	<b>7</b>
	<b>10</b>
	<b>6</b>
	<b>4</b>
	<b>9</b>
	<b>0</b>

« Tournez la page, vous êtes à la page 2. »

« L'exercice est terminé. Allez à la page suivante, vous êtes à la page 3. »

## Exercise 1

---

● 

2	10	7	1	9	6
---	----	---	---	---	---

○ 

0	6	3	2	5	1
---	---	---	---	---	---

➔ 

7	4	1	3	5	2
---	---	---	---	---	---

⇒ 

2	8	6	0	10	9
---	---	---	---	----	---

■ 

1	10	0	6	8	2
---	----	---	---	---	---

□ 

7	1	2	10	5	3
---	---	---	----	---	---

## Exercice 1 (suite)

---



0	2	9	10	1	7
---	---	---	----	---	---



0	6	3	2	5	1
---	---	---	---	---	---



7	4	1	3	5	2
---	---	---	---	---	---



2	8	6	0	10	9
---	---	---	---	----	---



0	2	9	10	1	7
---	---	---	----	---	---